



PLANIFICACIÓN PARA EL AUTOAPRENDIZAJE

SEMANA 8 del 18 DE MAYO AL 22 DE MAYO DE AÑO 2020

ASIGNATURA /CLASE	Historia y geografía/ SEMANA 8/ 2do. Básico.
NOMBRE DEL PROFESOR/A	ISABEL GOMEZ LEIVA 2DO A PRISCILA SALAS 2DO B
CONTENIDO	Conocer y respetar normas establecidas para transitar en la vía pública.
OBJETIVO DE APRENDIZAJE DE LA UNIDAD 1 (TEXTUAL)	OA 14 Conocer, proponer, aplicar y explicar la importancia de algunas normas necesarias para: cuidarse, cuidar a otros y evitar situaciones de riesgo (como seguridad vial, vías de evacuación, adaptaciones para discapacitados, zonas de silencio); organizar un ambiente propicio al aprendizaje y acogedor para todos (por ejemplo, respetar los turnos, cuidar el espacio y las pertenencias comunes y de sus pares, etc.); cuidar el patrimonio y el medioambiente.
MOTIVACIÓN	Observan video de youtube https://www.youtube.com/watch?v=CJ_7dFShQE https://www.youtube.com/watch?v=2As8bbrn-AI Comentar con tu familia la importancia de respetar las normas establecidas para transitar con la calle.
ACTIVIDAD(ES) Y RECURSOS PEDAGÓGICOS	ACTIVIDADES: 1.-obvervan PPT adjunto. 2.- Leer concepto de normas de seguridad, responden preguntas según lo leído. 3.-identificar normas de seguridad y relacionarlas con imágenes RECURSOS: Video, PPT, guía de trabajo, útiles escolares
EVALUACIÓN FORMATIVA	Evaluación formativa. Ticket de salida.
ESTE MÓDULO DEBE SER ENVIADO AL SIGUIENTE CORREO ELECTRÓNICO	Isabel.gomez@colegio-jeanpiaget.cl (2do.A) Priscila.salas@colegio-jeanpiaget.cl (2do.B) con foto de la actividad realizada Recepción: Viernes 22 de Mayo Enviar al correo fotografía del ticket de salida.



GUIA DE APRENDIZAJE DE HISTORIA Y GEOGRAFIA SEMANA 08

Nombre: _____ Fecha: _____

UNIDAD: "Me ubico en el espacio"

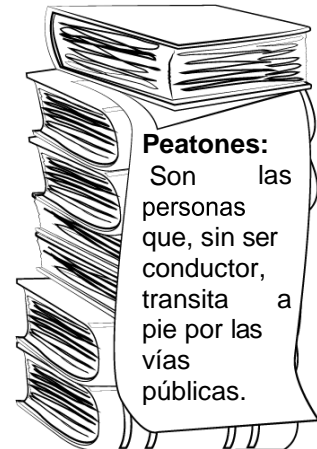
Objetivo(s) de la Clase:

- Identificar normas destinadas a la protección en la vía pública.

Actividad: Escribe en tu cuaderno, objetivo, fecha, semana 8, concepto de normas de seguridad, luego responde la guía según corresponda.


Hay normas de seguridad que nos ayudan a prevenir accidentes. Las normas de seguridad que deben aplicarse en el **hogar**, en el **colegio** y también en la **vía pública**.


Las señales de tránsito son signos y símbolos que sirven de guía para los conductores de los vehículos y los peatones en las vías y calles públicas. Para nuestra seguridad en la vía pública es de vital importancia conocer las señales del tránsito, así podrán cumplir con las normas que nos rigen y que nos ayudan a evitar accidentes.




1. Pinta cada señal de tránsito con el color que le corresponda:

- De rojo las de ordenamiento o prohibición.
- De azul las de información.
- De amarillo las de prevención.





2.- Marca con una X los dibujos que muestran peatones



3. Responde en forma clara y ordenada.

a) ¿Por qué será importante esperar que el semáforo este en rojo para los autos y verde para los peatones?



b) ¿Por qué crees que los ciclistas deben utilizar cascos en la vía pública?

c) ¿Por dónde se debe cruzar en la calle? ¿Por qué?


1. Elige una norma de seguridad vial para los dibujos que se presentan a continuación y escribe el número que la representa donde corresponda.

1. Cruzar de la mano de un adulto

2. Esperar el transporte en el paradero y subir a él sin correr.

3. Cruzar las esquinas cuando el semáforo esté en verde.

4. El ciclista debe circular por la derecha de la calzada y señalizar al doblar.

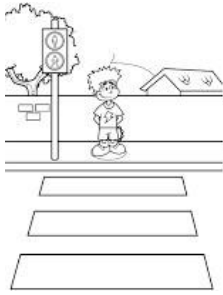




Ticket de salida

Encierra la alternativa correcta con color rojo:

1. ¿Cuál de las siguientes imágenes muestra un lugar seguro para que cruce un peatón?



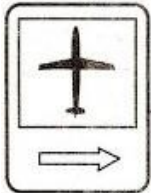
2. ¿Qué conductor está cumpliendo con las normas de tránsito?



3. Para poder cruzar la calle, ¿qué color del semáforo debe estar encendida?

- a) rojo
- b) amarillo
- c) verde

4. ¿Cuál de estas señales de tránsito nos entrega información que nos sirve para encontrar el aeropuerto?





**Colegio Jean Piaget
UTP-Rancagua**

Mi escuela un lugar para aprender y crecer en un ambiente saludable