



“Mi escuela, un lugar para aprender y crecer en un ambiente saludable”

PLANIFICACIÓN PARA EL AUTOAPRENDIZAJE

SEMANA 11 DEL 08 DE JUNIO AL 12 DE JUNIO DE AÑO 2020

ASIGNATURA /CLASE	Historia y geografía/ SEMANA 11/ 2do. Básico.
NOMBRE DEL PROFESOR/A	ISABEL GOMEZ LEIVA 2DO A PRISCILA SALAS 2DO B
CONTENIDO	Ubicación geográfica donde habitaban los pueblos originarios.
OBJETIVO DE APRENDIZAJE DE LA UNIDAD 1 (TEXTUAL)	OA 1: Describir los modos de vida de algunos pueblos originarios de Chile en el período precolombino, incluyendo ubicación geográfica, medio natural en que habitaban, vida nómada o sedentaria, roles de hombres y mujeres, herramientas y tecnología, principales actividades, vivienda, costumbres, idioma, creencias, alimentación y fiestas, entre otros.
MOTIVACIÓN	Ponte cómodo y disfruta de un entretenido video realizado por tus profesoras, además de los tutoriales de YouTube sobre los pueblos originarios de Chile. https://www.youtube.com/watch?v=NrBG1901-g https://www.youtube.com/watch?v=vIHEqfN-5xg https://www.youtube.com/watch?v=xDjPqnIKE-s
ACTIVIDAD(ES) Y RECURSOS PEDAGÓGICOS	ACTIVIDADES: 1.- Observar videos de pueblos originarios de Chile. 2.-Desarrollar Guía de Aprendizaje con apoyo del texto escolar páginas 60 a la 65 y página 68 a la 71 RECURSOS: videos de apoyo, guía aprendizaje, texto escolar y útiles escolares.
EVALUACIÓN FORMATIVA	Ticket de Salida
ESTE MÓDULO DEBE SER ENVIADO AL SIGUIENTE CORREO ELECTRÓNICO	Isabel.gomez@colegio-jeanpiaget.cl (2do.A) Priscila.salas@colegio-jeanpiaget.cl (2do.B) con foto de la actividad realizada Recepción: viernes 12 de junio Enviar al correo la guía desarrollada y fotografía favor de enviar Guía al wasap +569645153302 celular del curso 2do. A).



“Mi escuela, un lugar para aprender y crecer en un ambiente saludable”

GUIA DE APRENDIZAJE DE HISTORIA Y GEOGRAFÍA

SEMANA 11

UNIDAD II: “NUESTROS PUEBLOS ORIGINARIOS”

Objetivo(s) de la Clase:

- Ubicar pueblos originarios situados en la costa, en el interior y en la cordillera y relacionarlos con las características del paisaje que habitaban

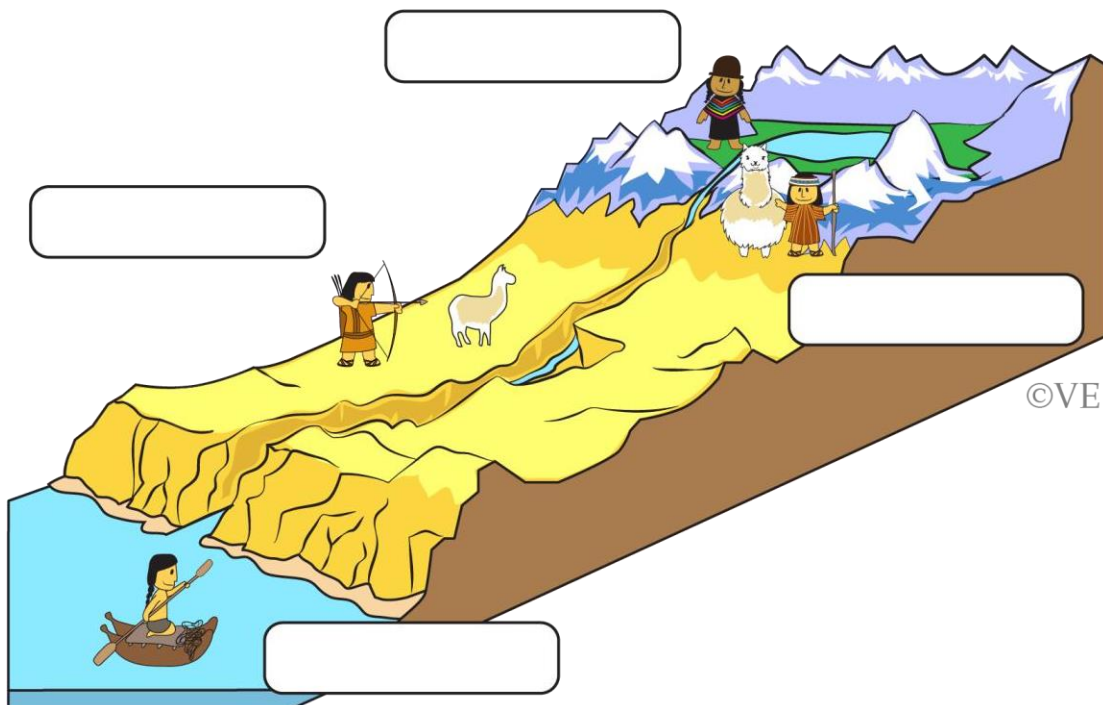
Nombre: _____ Fecha: _____

Para desarrollar las siguientes actividades, apóyate en el texto escolar página 60 a la 65 y página 68 a la 71

Lee la información que te entrega el siguiente cuadro, acerca del sector que habitaban los pueblos precolombinos de la **zona norte**.

Pueblo originario	Donde habitaba
Aymara	Vivían en el Altiplano
Atacameños	Vivían en el Altiplano
Changos	Vivía en la costa
Diaguitas	Vivían en los valles


1. Si pudiéramos ver en el relieve de la zona norte donde se ubicaba cada pueblo, sería algo así. Escribe sus nombres donde corresponde.



Recordemos que la zona norte tiene un clima desértico y muy poca vegetación a causa de la falta de precipitaciones.


2. ¿Cómo crees que era la vida de los pueblos en esta zona?, ¿Por qué?

3. Si miramos el relieve de la zona centro, sería como la imagen que vemos a continuación. Cerca de los ríos de esta zona se asentó un pueblo ¿puedes identificarlo?



4. Según lo que observas del relieve de la zona central ¿Qué actividades podrían desarrollar los mapuches en él? ¿Por qué?

5. Observa la imagen y escribe el nombre de tres pueblos que habitaban la zona sur de acuerdo a su ubicación en relieve.



6. Según lo que puedes observar ¿Qué pueblo o pueblos habitaban la costa de la zona sur?



Ticket de salida

1. Pinta el nombre los pueblos de acuerdo al color que se te indica para cada zona:

- Zona norte: Amarilla
- Zona sur: verde
- Zona central: celeste

Diaguitas

Onas

Aymara

Mapuche

Alcalufe

Chonos

Yaganes

Atacameños

Changos

2. Pinta el nombre de los pueblos de acuerdo al sector que habitaban.

- Altiplano: azul
- Montaña: verde
- Costa: naranjo
- Valle: rojo

Diaguitas

Onas

Aymara

Mapuche

Alcalufe

Chonos

Yaganes

Atacameños

Changos

