



“Mi escuela, un lugar para aprender y crecer en un ambiente saludable”

PLANIFICACIÓN PARA EL AUTOAPRENDIZAJE

SEMANA 12 DEL 15 DE JUNIO AL 19 DE JUNIO DE AÑO 2020

ASIGNATURA /CLASE	Historia y geografía/ SEMANA 12/ 2do. Básico.
NOMBRE DEL PROFESOR/A	ISABEL GOMEZ LEIVA 2DO A PRISCILA SALAS 2DO B
CONTENIDO	Pueblos originarios Nómades y Sedentarios Características sociales de los pueblos originarios.
OBJETIVO DE APRENDIZAJE DE LA UNIDAD 1 (TEXTUAL)	OA 1: Describir los modos de vida de algunos pueblos originarios de Chile en el período precolombino, incluyendo ubicación geográfica, medio natural en que habitaban, vida nómada o sedentaria, roles de hombres y mujeres, herramientas y tecnología, principales actividades, vivienda, costumbres, idioma, creencias, alimentación y fiestas, entre otros.
MOTIVACIÓN	Ponte cómodo y disfruta de un entretenido video realizado por tus profesoras, además de los tutoriales de YouTube sobre los pueblos originarios de Chile. https://www.youtube.com/watch?v=rAz8Dbi1S40 https://www.youtube.com/watch?v=TnacTsMSLzs Luego respondes la guía y recuerda apoyarte del texto escolar página 60 a la 65 y página 68 a la 71 y no olvides pedirle a la mamá que debe enviármela una vez que la hayas desarrollado.
ACTIVIDAD(ES) Y RECURSOS PEDAGÓGICOS	ACTIVIDADES: 1.- Observar videos de pueblos originarios de Chile. 2.-Desarrollar Guía de Aprendizaje con apoyo del texto escolar páginas 62 a la 65 y PPT ADJUNTADO EN LA PLATAFORMA RECURSOS: videos de apoyo, guía aprendizaje, texto escolar y útiles escolares.
EVALUACIÓN FORMATIVA	Clasificar los pueblos originarios en Nómades y Sedentarios Evaluación formativa.
ESTE MÓDULO DEBE SER ENVIADO AL SIGUIENTE CORREO ELECTRÓNICO	Isabel.gomez@colegio-jeanpiaget.cl (2do.A) Priscila.salas@colegio-jeanpiaget.cl (2do.B) con foto de la actividad realizada Recepción: viernes 19 de junio Enviar al correo la guía desarrollada y fotografía favor de enviar Guía al wasap +569645153302 celular del curso 2do. A).



Guía de aprendizaje de historia y geografía semana 12

UNIDAD II “Pueblos Originarios de Chile”

Objetivo

Nuestros ancestros







Como lo vimos en las clases anteriores, mucho antes de nuestra existencia en este país, vivieron pueblos indígenas que poblaron este territorio y dejaron un legado para nosotros. Hoy en día sólo algunas de estas comunidades permanecen, aunque gran parte de sus descendientes ya no practican el estilo de vida de sus ancestros, ya que sus estilos de vida estaban muy relacionados con las condiciones que presentaban los lugares en los que se asentaban. El modo de vida de estos pueblos se caracterizaba por ser nómada o sedentario.







Observa el esquema:



1. Lee y luego responde las preguntas.


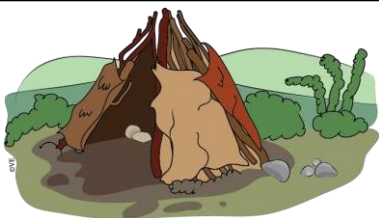

	<p>Atacameño: Era un pueblo sedentario que se ubicaba en los valles, oasis y cuencas de la región de Antofagasta. A pesar de la escasez de agua que existe en el norte del país, este pueblo se caracterizó por su ganadería y sus sistemas de riego que permitieron la agricultura.</p>
	<p>Aimara: También habitaron en el norte de Chile, pero en la región de Tarapacá. Igualmente están compuestos por un gran número de familias o ayllus que no habitan el mismo territorio, sino más bien permanecían esparcidas por la zona. Son un pueblo sedentario de agricultores y ganaderos.</p>
	<p>Diaguita: Vivieron en los valles, de la zona norte. Fueron un pueblo sedentario, se dedicaban a la agricultura, ganadería, pesca, recolección de frutos y a la caza.</p>
	<p>Chango: Habitaron la costa del norte de Chile, pues eran un pueblo principalmente pescador y cazador de animales marinos. Se movían constantemente por el territorio gracias a sus resistentes balsas construidas con pieles de lobos marinos, eran un pueblo nómade.</p>
	<p>Rapa nui: Aún habitan la Isla de Pascua, ubicada en el océano Pacífico. Es un pueblo sedentario que practicó la agricultura en cuevas y túneles llamados jardines subterráneos, debido al complejo clima de la isla. Además, pescaban en las orillas de la isla.</p>
	<p>Mapuche: En sus inicios fueron cazadores y recolectores, pero fueron evolucionando hasta asentarse en lugares permanentes, gracias a la construcción de sus casas llamadas rucas. Habitaron en la mayor parte del territorio chileno (desde la región del Maule y de Los Ríos) y desarrollaron la ganadería, especialmente con las gallinas, y la agricultura en pequeñas porciones de tierra.</p>

	<p>Chonos: Pueblo que habitó el extremo sur de Chile (Patagonia). Eran pescadores y cazadores de animales marinos que se movilizaban en sus canoas fabricadas con madera llamadas dalcas, las que eran las casas de estas familias. También recolectaban mariscos de las rocas, buceando en el mar y guardándolas en canastos.</p>
	<p>Yaganes: Su modo de vida tradicional era nómada, se desplazaban en canoas, dedicados a la caza, recolección y pesca. Recorrían las islas y canales que están al sur del canal Beagle hasta el cabo de Hornos en busca de alimentos. Cazaban lobos marinos, nutrias, ballenas. Además, eran mariscadores.</p>
	<p>Alacalufes: Habitaron la zona Austral de Chile, era un pueblo de nómadas que recorrían en canoa los canales de la Patagonia occidental, entre el golfo de Penas y el estrecho de Magallanes; también se desplazaban por los canales que forman las islas ubicadas al oeste de la Isla Grande de Tierra del Fuego y al sur del estrecho.</p>
	<p>Onas o Selk`nam: Habitaron el extremo sur de Chile, en la Isla de Tierra del Fuego. Eran cazadores y recolectores que se desplazaban en grandes trayectos en búsqueda del principal animal que consumían, el guanaco, el cual era cazado con arco y flechas. Cuando querían asentarse en algún lugar, construían unas pequeñas casas en forma de conos con palos y cueros de animales.</p>

a) ¿Qué características tienen en común los pueblos de tipo *nómada*?

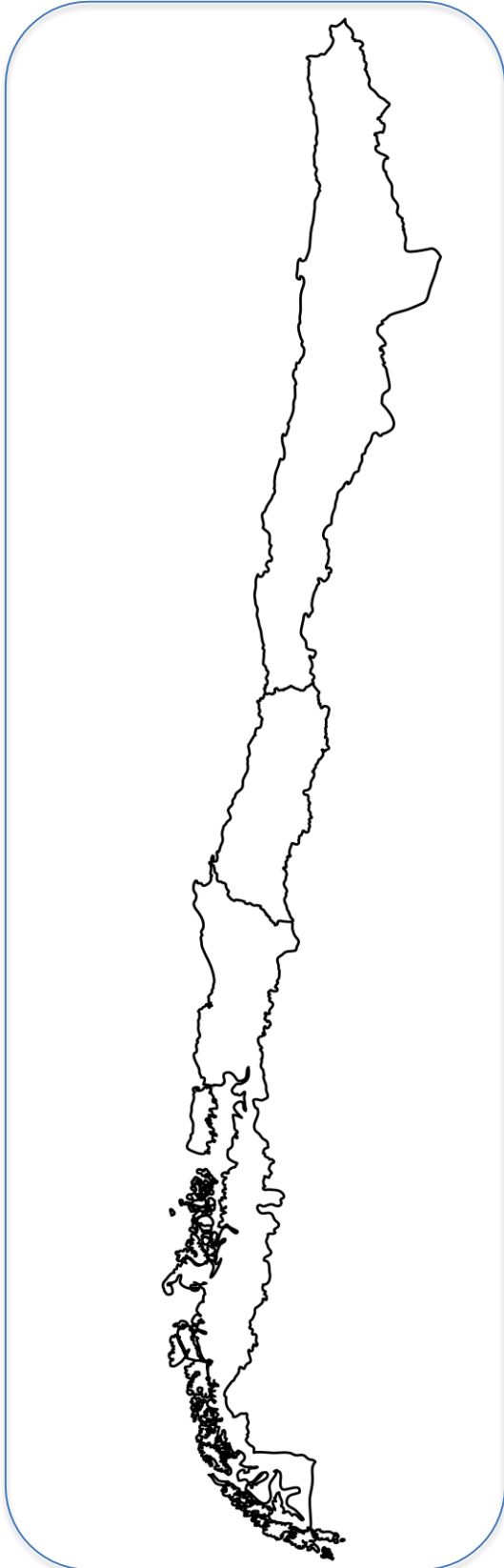
b) ¿Qué características tienen en común los pueblos de tipo *sedentario*?

Identifica y escribe ¿Cuáles serían las viviendas que corresponde a pueblos nómade y cuáles corresponden a pueblos sedentarios?

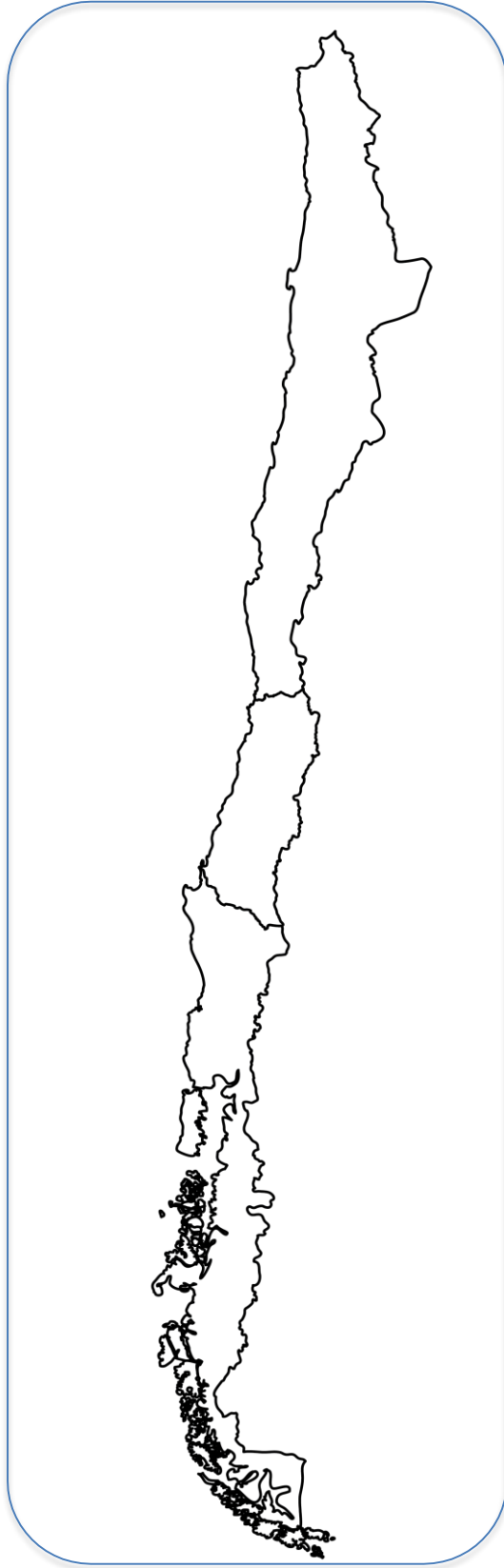


2. En cada mapa pega los pueblos que corresponden según su ubicación geográfica. Para ellos recorta del anexo los dibujos de los representantes de cada pueblo y sepáralos en nómades y sedentarios, luego ubícalos en las zonas en las que vivían en el mapa que corresponde a su modo de vida.

Nómade



Sedentario



3. Según lo visto en el PowerPoint identifica cada tipo de vivienda con el pueblo que corresponde.



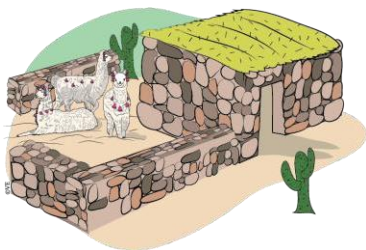
Rapa Nui



Atacameños



Yaganes



Mapuche

4. Descubre en la sopa de letras los nombres de seis pueblos originarios de Chile y dos actividades realizadas por ellos. Enciérralas con diferentes colores.

Atacameños Mapuches Alacalufes Changos Diaguitas

Onas Pesca Caza

A	W	Z	U	R	S	A	M	I	T	Z
T	L	E	R	T	H	P	Ñ	C	D	R
A	C	A	L	T	Y	O	R	U	M	N
C	H	T	C	P	Z	X	V	Ñ	T	I
A	A	R	M	A	P	U	C	H	E	S
M	N	Y	D	W	L	E	D	L	R	Y
E	G	M	C	S	R	U	S	W	O	T
Ñ	O	Z	A	T	R	N	F	C	N	U
O	S	S	Z	T	Y	O	W	E	A	R
S	D	I	A	G	U	I	T	A	S	Q
W	R	T	Y	J	H	F	C	D	R	E










5. Con la ayuda de un diccionario busca el significado de:

• **Monoteísta:**.....

• **Pedestre:**

• **Cultivos Irrigados:**

6. De las siguientes imágenes identifica que pueblos se alimentaban de ellos.

 <p>Piñones</p>	
 <p>Papas</p>	
 <p>Porotos</p>	
 <p>Maíz</p>	
 <p>Ají</p>	
 <p>Pescados</p>	
 <p>Lobo marino</p>	
 <p>Mariscos</p>	
 <p>Guanaco</p>	



De las siguientes afirmaciones responde con una V si es verdadero o una F si es falso . Escribe justificando el por qué de las falsas.

1. Los changos era un pueblo pescador que se ubicaba en la zona sur.

2. Los pueblos canoeros del sur son los Yaganes, alacalufes y los Onas.

3. La vivienda mapuche recibía como nombre Tuca.

4. El pueblo yagan utilizaba el tronco de roble para confeccionar sus canoas.
