



Colegio Jean Piaget
UTP-Rancagua Mi escuela un lugar para aprender y crecer en un ambiente saludable

PLANIFICACIÓN PARA EL AUTOAPRENDIZAJE 3RO BÁSICO

SEMANA Nº10 del 1° al 5 de junio, 2020

ASIGNATURA /MÓDULO TP	Tecnología /Tercer año básico.
NOMBRE DEL PROFESOR/A	Juana Valladares San Martín
CONTENIDO	Unidad N° 2: “Conociendo los materiales y herramientas utilizados en un objeto tecnológico.”
OBJETIVO DE APRENDIZAJE DE LA UNIDAD 1 (TEXTUAL)	OA2 -Planificar la elaboración de un objeto tecnológico, incorporando la secuencia de acciones, materiales, herramientas, técnicas y medidas de seguridad necesarias para el buen resultado.
MOTIVACIÓN	Buen día alumnos/as espero que te encuentres muy bien junto a tu familia, comenzaremos una nueva Unidad en la que trabajaremos y espero que te entretengas. Ánimo y te invito a seguir aprendiendo.
ACTIVIDAD(ES) Y RECURSOS PEDAGÓGICOS	Comenzaremos esta clase: -Conocer las herramientas que has utilizado - Dibújalas en los recuadros. RECURSOS: guía de trabajo y/o cuaderno, lápices de colores, etc.
EVALUACIÓN FORMATIVA	Guía de desarrollo.
ESTE MÓDULO DEBE SER ENVIADO AL SIGUIENTE CORREO ELECTRÓNICO	Juana.valladares@colegio-jeanpiaget.cl Fecha de envío de la foto o al correo 12 de junio 2020. y/o profesor jefe.



Colegio Jean Piaget
UTP-Rancagua Mi escuela un lugar para aprender y crecer en un ambiente saludable

GUÍA DE TRABAJO TECNOLOGÍA 3ero BÀSICO

SEMANA Nº10 del 1° al 5 de junio 2020

Nombre Estudiante:	Curso: 3° Básico	Fecha:
Objetivo de Aprendizaje: OA2 Planificar la elaboración de un objeto tecnológico, incorporando la secuencia de acciones, materiales, herramientas, técnicas y medidas de seguridad necesarias para el buen resultado. Objetivo Clase: - Diagnóstico de conocimientos previos sobre la unidad. - Conocer y aplicar las técnicas necesarias para manipular herramientas.		
Nombre Docente: Juana Valladares San Martín		

1.- Realiza un dibujo de cada una de las herramientas que has utilizado alguna vez



Colegio Jean Piaget
UTP-Rancagua

Mi escuela un lugar para aprender y crecer en un ambiente saludable

2.- Observa la siguiente imagen y deduce algunas técnicas sobre el uso de las herramientas




a) ¿Con qué dedos se debe usar la tijera?

b) ¿Esta técnica te resulta fácil o difícil para tus trabajos, Fundamenta?

c) ¿Qué medidas de resguardo y cuidado debes tener para el uso de las Tijeras?



La Regla medida de Longitud

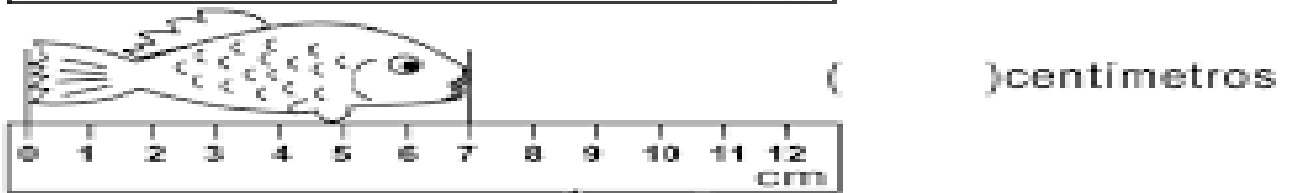
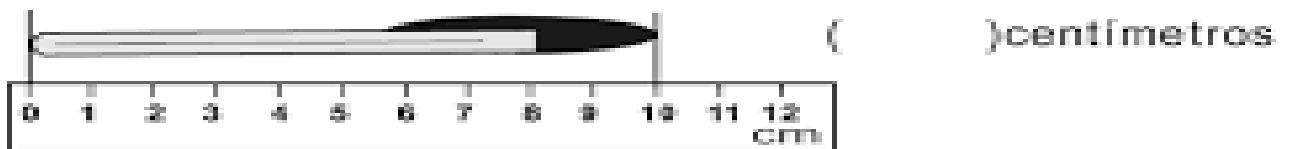


a) ¿Qué unidad de medida de la regla es la que se indica en la imagen?

b) ¿Cuántos milímetros hacen un centímetro?

c) Observa y contesta:

Escribe en los paréntesis lo que mide.



¡¡¡ CUIDATE Y QUÉDATE EN CASA, NOS VEREMOS PRONTOOO!!!