



UTP-Rancagua

Jean Piaget

“Mi escuela un lugar para aprender y crecer en un ambiente saludable

Rancagua, Marzo, 2020

MÓDULO DE AUTOAPRENDIZAJE

SEMANA DEL 30 DE MARZO AL 03 DE ABRIL 2020

TÍTULO	Características y funciones de los objetos tecnológicos.
ASIGNATURA /CURSO	Educación Tecnológica. 4° básico A
NOMBRE DEL PROFESOR/A	Adelina Elgueta Cornejo
OBJETIVO DE APRENDIZAJE DE LA UNIDAD 1 (TEXTUAL)	Crear diseños de objetos o sistemas tecnológicos simples para resolver problemas: desde diversos ámbitos tecnológicos y tópicos de otras asignaturas; representando sus ideas a través de dibujos a mano alzada, dibujo técnico o usando TIC; explorando y transformando productos existentes (OA1)
MOTIVACIÓN	Conocer acerca de funciones y características de los objetos tecnológicos.
ACTIVIDAD(ES) Y RECURSOS PEDAGÓGICOS	Guía de trabajo evaluada, donde deben reconocer las funciones que están expresadas en imágenes, que tienen los objetos tecnológicos. Además de aquellos que solucionan problemáticas.
EVALUACIÓN	Evaluación Sumativa. Enviar fotos del trabajo realizado para ser evaluado
ESTE MÓDULO DEBE SER ENVIADO AL SIGUIENTE CORREO ELECTRÓNICO	adelina.elgueta@colegio-jeanpiaget.cl



Nombre:	Curso: 4°	Fecha:
Exigencia: 60%	Puntaje Total: 22 ptos. Pje Obtenido _____	Nota: _____
Objetivo(s) de Aprendizaje: Reconocer características y funciones de los objetos tecnológicos. Identificar problemas y oportunidades que reflejan una necesidad específica en un ámbito tecnológico determinado.		
Contenidos: Características y funciones de los objetos tecnológicos.		


GUÍA DE TECNOLOGÍA Semana 3. Clase 1

1.-Identifica la función de los siguientes objetos tecnológicos.
Subraya la función que cumple cada objeto.(1 punto cada uno)



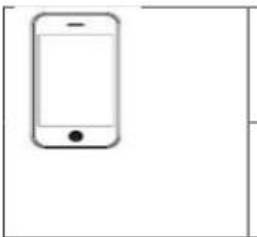
Para lavarnos

Para entretenernos e informarnos



Para jugar

Para vestirnos



Para comunicarnos y jugar

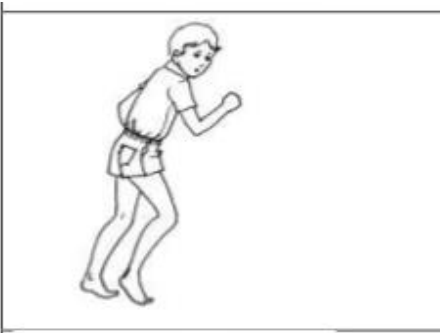
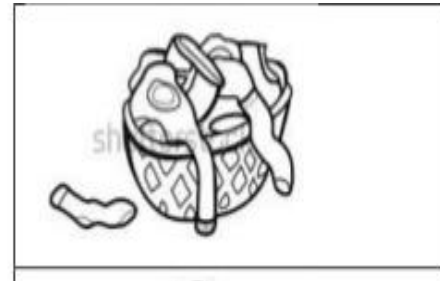
Para comer



Para escuchar música

Para entretenernos y hacer actividad física

2.-Escribe el objeto tecnológico que soluciona el problema en cada situación. (2puntos cada uno).





3.-Clasifica los objetos tecnológicos según la función que cumplen.


Escribe el número en el cuadro que corresponde a cada función. (1 punto cada uno)

COMUNICARNOS	VESTIRNOS	TRASLADARNOS	JUGAR

1



2




3

4



5



6



7

8

