



PLANIFICACIÓN PARA EL AUTOAPRENDIZAJE

SEMANA 10
DEL 01 AL 05 DE JUNIO AÑO 2020

ASIGNATURA /CURSO	TECNOLOGÍA / 4º AÑO BÁSICO
NOMBRE DEL PROFESOR/A	ADELINA ELGUETA CORNEJO
CONTENIDO	Técnicas para manipular herramientas simples
OBJETIVO DE APRENDIZAJE DE LA UNIDAD 1 (TEXTUAL)	(OA 2) Planificar la elaboración de un objeto tecnológico, incorporando la secuencia de acciones, materiales, herramientas, técnicas y medidas de seguridad necesarias para lograr el resultado deseado, y discutiendo las implicancias ambientales de los recursos utilizados. Obj. De la clase: Usar técnicas apropiadas para manipular herramientas simples
MOTIVACIÓN	Observan imagen de cómo usar la tijera Responden pregunta relacionada
ACTIVIDAD(ES) Y RECURSOS PEDAGÓGICOS	ACTIVIDADES: <ul style="list-style-type: none">- Observan imagen de cómo usar una tijera- Responden preguntas relacionadas- Analizan características de la regla y responden- Responden preguntas de cierre o ticket de salida (evaluación formativa de la clase) RECURSOS: <ul style="list-style-type: none">• Guía en forma digital• Cuaderno de tecnología• Lápiz• Goma
EVALUACIÓN FORMATIVA	Se evaluará de forma formativa
ESTE MÓDULO DEBE SER ENVIADO AL SIGUIENTE CORREO ELECTRÓNICO	Se sugiere sacar una foto al ticket de salida y enviarla con el nombre del estudiante y el curso al cual pertenece al siguiente correo: adelina.elgueta@colegio-jeanpiaget.cl Fecha de entrega Viernes 05 DE JUNIO



GUÍA TECNOLOGÍA: “Herramientas para la confección de un OT”

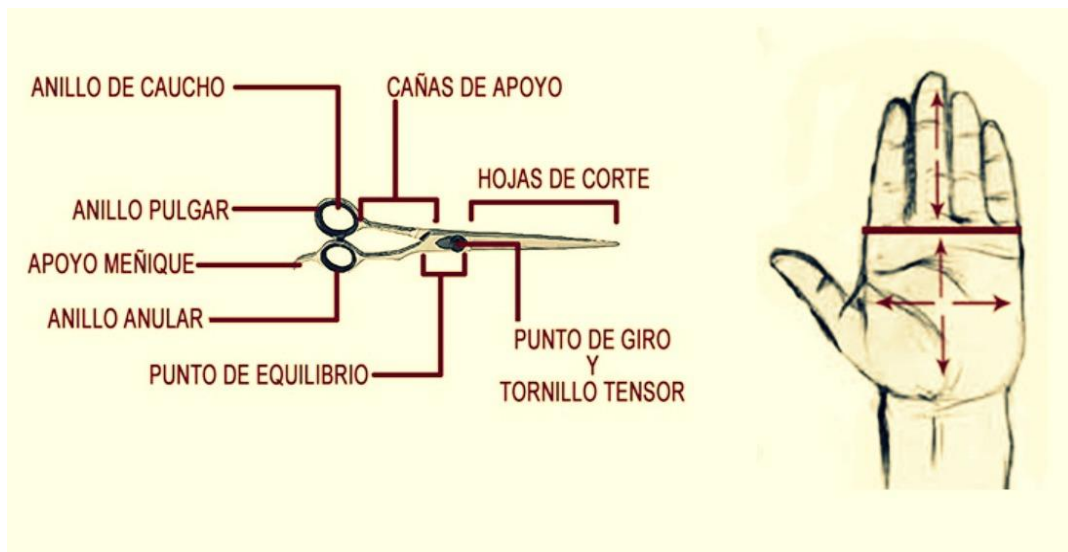
Nombre: _____ Curso: **4º Año Semana 10** Fecha: _____

Objetivo de la clase: **Usar técnicas apropiadas para manipular herramientas simples**

Esta actividad debe ser desarrollada en tu cuaderno. Lee cuidadosamente antes de responder.

INICIO

- I. **Antes de comenzar, Observa la siguiente imagen y deduce algunas técnicas sobre el uso de las herramientas**



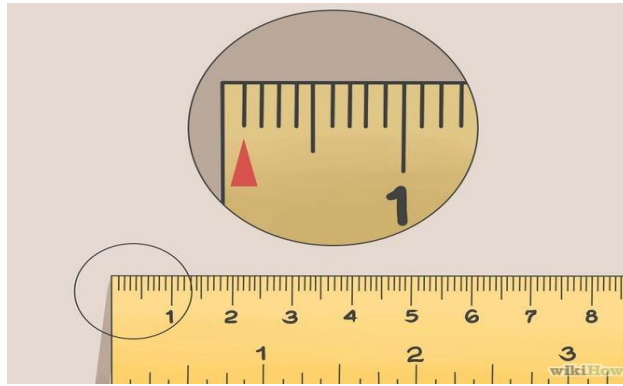
Escribe que observas en la imagen:

Desarrollo

Ahora responde:


- a) ¿Con que dedos se debe usar la tijera?

- b) ¿Qué otras técnicas puedes deducir por medio de la imagen?



a) ¿Qué unidad de medida de la regla es la que se indica en la imagen?

b) ¿Cuántos milímetros hacen un centímetro?



c) ¿Desde qué número se debe comenzar la medición con una regla?

PÁGINA PARA ENVIAR POR CORREO O WHATSSAP

TICKET DE SALIDA SEMANA 10

NOMBRE: _____ **CURSO:** 4° AÑO

1. ¿Para qué nos sirve aprender a usar herramientas como las tijeras y la regla?

2. Desarrolla una técnica para utilizar cada una de las herramientas con las que has trabajado durante esta clase. Escribe y dibuja cada una de las técnicas que desarrolles.