

UNIDAD: “Repaso”

Objetivo(s) de la Clase:

- Repasar contenidos correspondientes al primer semestre del año anterior.

NUESTRO CONTINENTE

Vivimos en el continente americano, el que se constituye en el segundo más grande del planeta, presentando una dimensión única, debido a que se extiende desde el océano Ártico polar hasta el océano Antártico, en él se presentan numerosos climas, paisajes, y tipos de vegetación, además de presentar imponentes relieves, grandes ríos, lagos, selvas, desiertos glaciares, islas tropicales, volcanes, etc.

América es un continente, el cual podemos diferenciar en las siguientes áreas:

- **América del Norte**, es una gran masa de tierra ubicada en el hemisferio Norte entre los paralelos 20° y 80° latitud Norte.
- **América Central**, es una angosta faja de tierra (istmo) que une América del Norte y América del Sur, presentando además una zona de islas (**El Caribe**).
- **América del Sur**, una gran masa de tierra ubicada principalmente en el hemisferio Sur, entre los paralelos 15° latitud norte y 56° latitud sur.



Viajar por América es recorrer un continente que no deja de sorprender por la diversidad de sus paisajes, muchos de los cuales son realmente imponentes y sobrecogedores, uno de los elementos que dibujan nuestro **paisaje americano** está dado por el **relieve**, que no es más ni menos que las características que presenta la superficie terrestre en un lugar en cuanto a su altitud y formas, en América podemos reconocer principalmente las cordilleras que se presentan con numerosos volcanes, entre las principales encontramos (las rocosas o rocallosas, la sierra madre y los Andes) de magnitud menor pero no menos significativa encontramos las mesetas o montañas (Escudo canadiense, los Apalaches, Macizo de las Guayanas, el Macizo Brasileño y la meseta de la Patagonia).

Encontramos relieves ligados a grandes llanuras (extensos terrenos que se encuentran asociados a grandes ríos que desbordan en el océano Atlántico) entre estos relieves encontramos la llanura del río Mississippi, Los llanos del Orinoco y del Amazonas, y la llanura Chaco–Pampeana.

En América existen también numerosos lagos, entre los cuales podemos destacar los Grandes Lagos en Norteamérica, lago Nicaragua y lago Maracaibo en Centro América, lago Titicaca en América del Sur.



Otro elemento característico de nuestro continente es la **variación climática** que presentan las en ciertos lugares las temperaturas y precipitaciones a lo largo del año. Estas características varían por factores como la latitud, la altitud y el relieve. Considerando la latitud como factor determinante, los climas se clasifican en cálidos, templados y fríos los que a su vez condicionan las características que presenta los distintos paisajes que encontramos en nuestro continente como son las tundras, selvas, desiertos, costeros, polares, etc.

La **población americana** se caracteriza por su diversidad, ya que es resultado del aporte de diferentes grupos étnicos lo cual hace que posea una gran riqueza y diversidad cultural, una base importante está dada por el grupo aborigen de nuestro continente, en segunda instancia encontraremos a los europeos que llegaron a América entre los siglos XVI y XVIII (españoles, portugueses, ingleses y franceses y en menor medida holandeses), finalmente la traída forzada de población africana como mano de obra esclava, entre otras han contribuido a la conformación de esta América mestiza.

El continente americano alcanza una población aproximada de 900.000.000 personas, convirtiendo a nuestro continente en el segundo con mayor volumen poblacional, después de Asia. Dicha población se distribuye en los más de 40 países que conforman este extenso continente, pero su distribución es desigual.

Desarrollo sustentable: concepto utilizado desde 1987 por las Naciones Unidas, que se define como "aquel desarrollo que satisface las necesidades del presente sin comprometer la capacidad de las generaciones futuras para satisfacer sus propias necesidades".

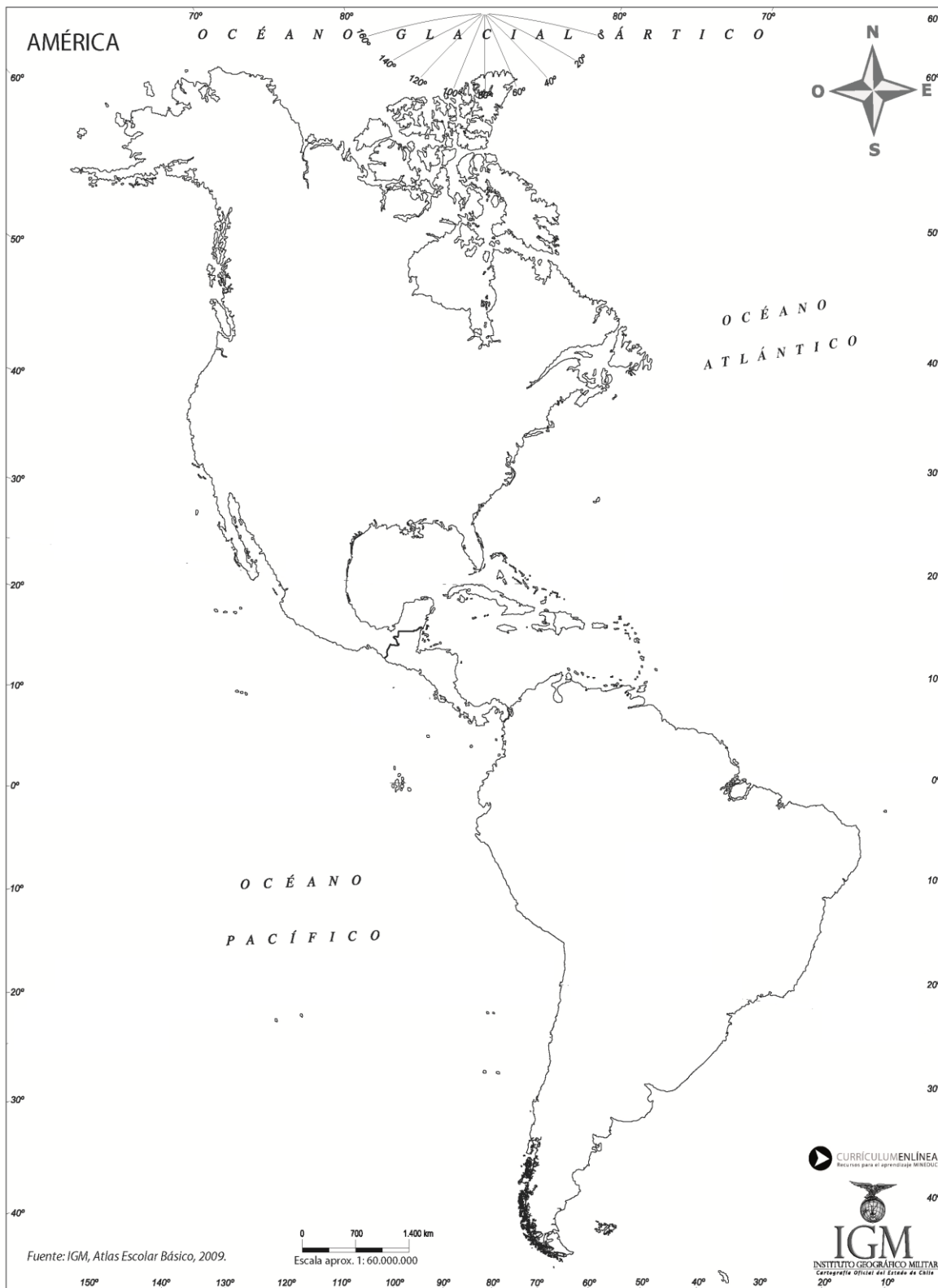
Nuestro continente presenta una rica y variada distribución de **recursos naturales** (son todos aquellos elementos vivos e inertes y la energía que obtenemos del medio natural para satisfacer nuestras necesidades). Estos se caracterizan por ser limitados. Las actividades económicas primarias son las que permiten obtener los

recursos de la naturaleza con actividades como la pesca, silvicultura (forestal), agrícola, ganadera, minería.



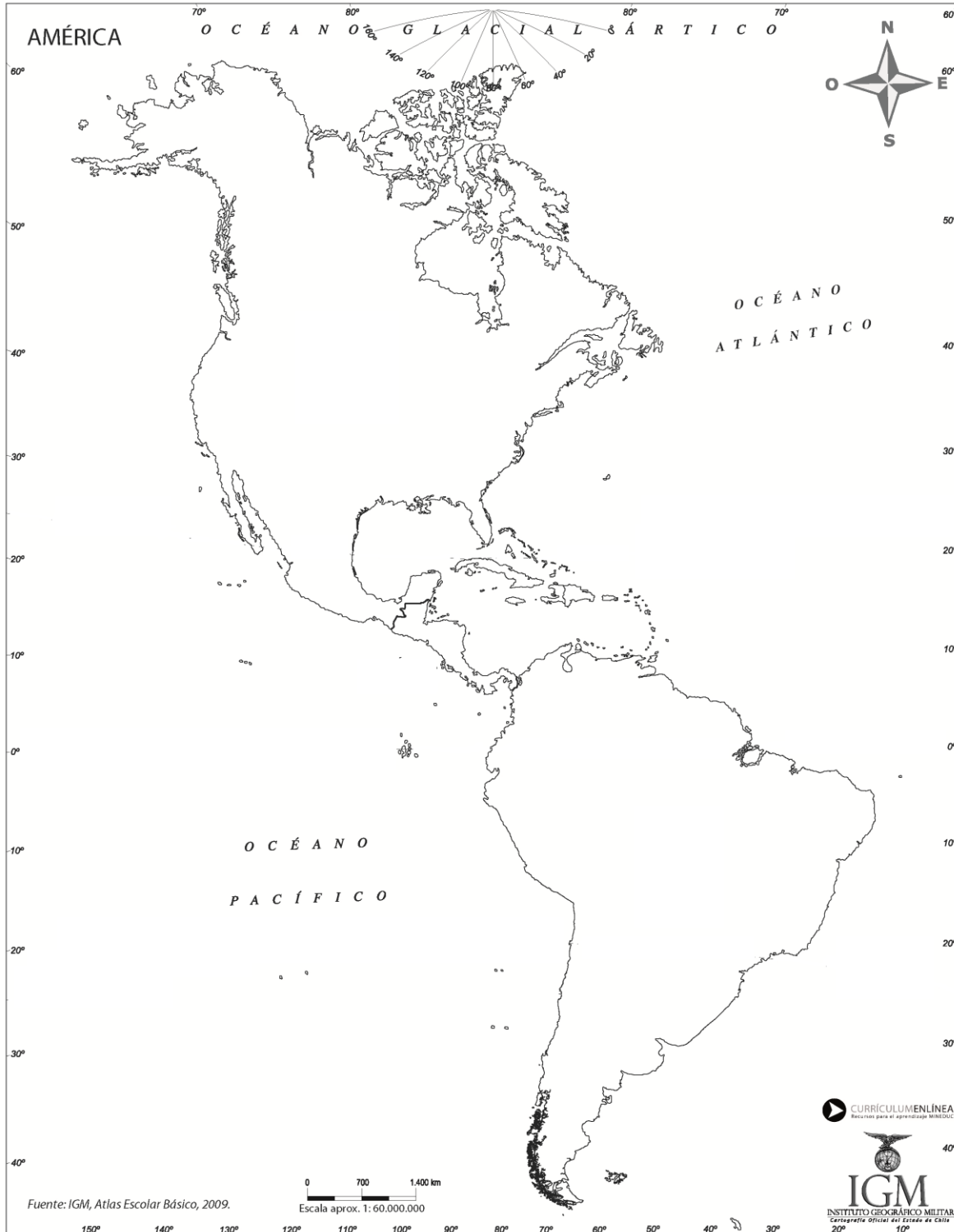
Actividad

I.- Con la ayuda de un atlas, delimita los países que se ubican en el continente americano. Luego ubica los principales recursos naturales presentes en el continente. Y, crea una simbología para ello.



II.- Observa un mapa mudo de América y a continuación, realiza las actividades que se indican:

- Identifica en el mapa las zonas climáticas (cálidas, templadas y frías).
- Traza el recorrido de los principales ríos de América (cinco de ellos).
- Ubica y pinta los principales relevos presentes en el continente (café = Montañas, verde= llanuras)



III.- Lee las siguientes preguntas y selecciona la alternativa correcta.

1.- Sobre esta línea imaginaria gira la Tierra, teniendo una inclinación de $23^{\circ} 27'$ respecto al plano de la eclíptica y sus extremos son el Polo Norte y Polo Sur. De acuerdo a la descripción hace referencia al:

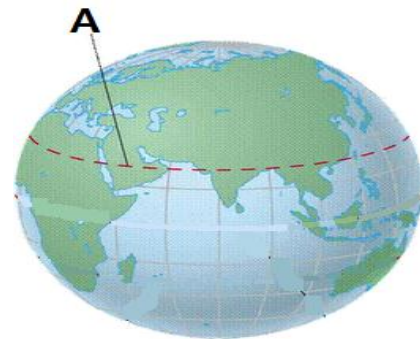
- a) Eje terrestre
- b) Meridiano
- c) Paralelo
- d) Línea del Ecuador

2.- Las líneas horizontales imaginarias, que rodean a la Tierra va indicando la latitud, con respecto a:

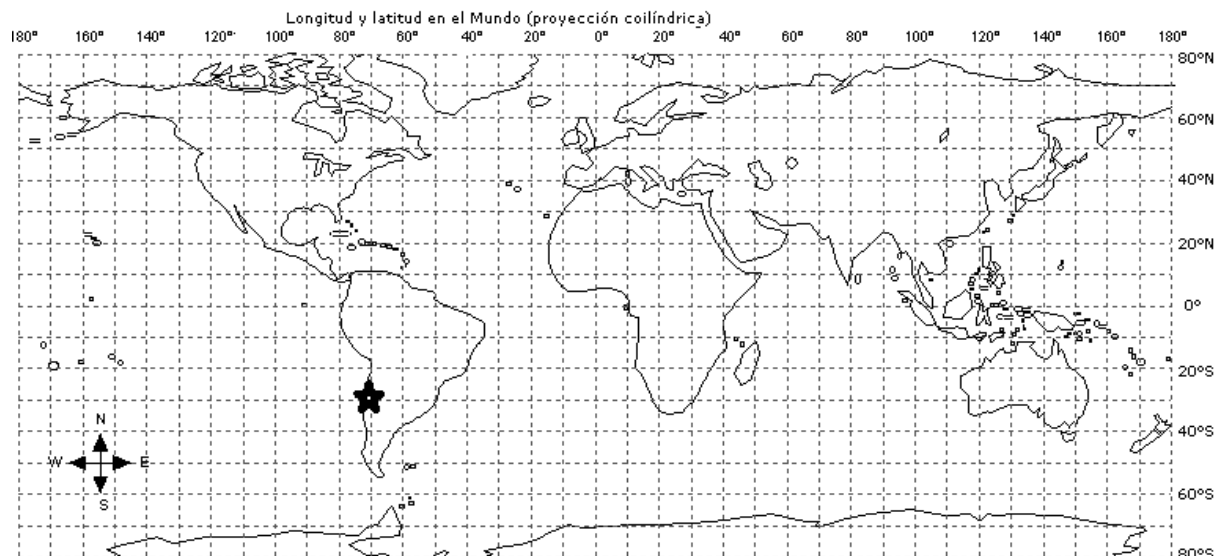
- a) Un punto de la tierra en relación al Ecuador
- b) Un punto de la tierra en relación a Greenwich
- c) un punto de la tierra en relación a los polos
- d) Ninguna de las anteriores

3.- En la presente imagen, la línea imaginaria que aparece señalada corresponde a:

- a) El Trópico de Capricornio
- b) El Trópico de Cáncer
- c) La línea del Ecuador
- d) El Meridiano de Greenwich



4.- En el presente mapa, la estrella se encuentra ubicada en las coordenadas:

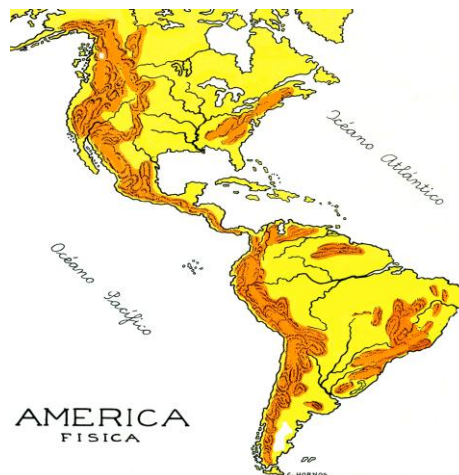


- a) Longitud 70° Este y Latitud 30° Sur
- b) Latitud 70° Oeste y Longitud 30° Norte
- c) Longitud 70° Oeste y Latitud 30° Sur
- d) Latitud 70° Oeste y Longitud 30° Sur

5.- En el presente mapa podemos identificar una característica que presenta nuestro continente, en el podemos reconocer:

- I.- La presencia de grandes llanuras fluviales que dan al océano Atlántico
- II.- La presencia de un cordón montañoso que atraviesa de norte a sur
- III.- La presencia de una península que une Norteamérica con Sudamérica.

- a) I y II
- b) I y III
- c) II y III
- d) I, II y III



6.- Nuestro continente se divide en tres grandes aéreas o regiones, la imagen representa a:

- a) El Caribe
- b) Centroamérica
- c) Norteamérica
- d) Sudamérica

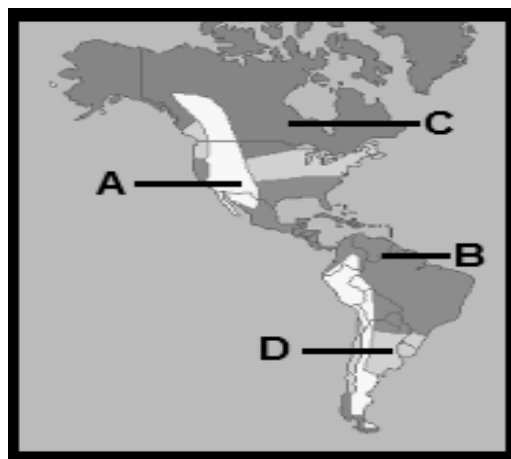


7.- Nuestro continente se encuentra al medio de los océanos:

- a) Atlánticos e Índico
- b) Pacífico e Índico
- c) Pacífico y Atlántico
- d) Índico y Ártico

8.- De acuerdo a como se distribuyen los tipos de clima en nuestro continente, la letra que representa la ubicación de un clima de tipo templado, se encuentran señalada con:

- a) La letra A
- b) La letra B
- c) La letra C
- d) La letra D



9.- La cordillera que cruza de Norte a Sur Sudamérica, recibe el nombre de:

- a) Cordillera de las Rocosas
- b) Cordillera de los Andes
- c) Montes Apalaches
- d) Cordillera de la Costa

10.- Desde el punto de vista cultural América se divide en dos regiones, la que se ubica en América del norte (anglosajona) y América central y América del sur (Latinoamérica), la primera se caracterizó por ser colonizada por:

- I.- Inglaterra
- II.- Francia
- III.- Alemania

- a) Solo I
- b) I y II
- c) I y III
- d) I, II y III

11.- La imagen representa el tipo de paisaje conocido como pradera, esta corresponde a:



A



B



C



D

12.- El círculo señala donde se encuentra el río:

- a) Río de la plata
- b) Río Mississippi
- c) Río Amazonas
- d) Río Orinoco



13.- Los primeros habitantes de América fueron los denominados pueblos precolombinos o amerindios, dentro del listado no corresponden:

- a) Los mayas
- b) Los aztecas
- c) Los Incas
- d) Los maoríes

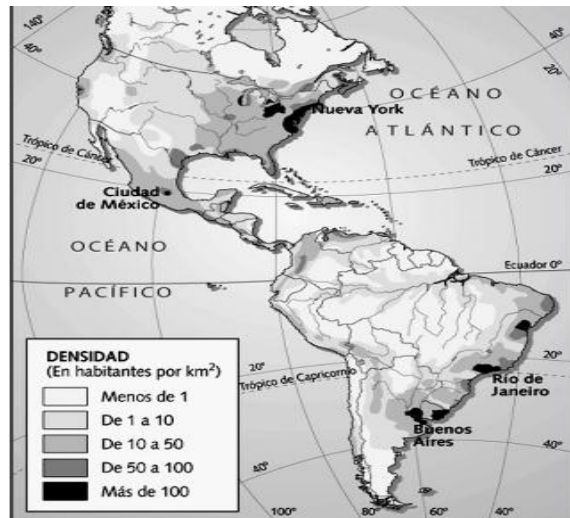
14.- Una de las características particulares de América es su idioma, en el predominan en Latinoamérica el español, el país latinoamericano que no tiene como lengua oficial el español es:

- a) Perú
- b) México
- c) Brasil
- d) Estados Unidos

15.- De acuerdo a la distribución de la población en América, de la imagen podemos deducir que:

- I.- Existe una mayor cantidad de población hacia la vertiente Atlántica.
- II.- La población tiende a asentarse en las zonas costeras.
- III.- La mayor parte de la población se concentra al interior del continente.

- a) Solo I
- b) I y II
- c) I y III
- d) I, II y III



16.- Los recursos naturales son materias primas y que utilizamos para satisfacer nuestras necesidades, entre los distintos recursos los clasificamos en renovables y no renovables, como recursos renovables **NO** corresponde:

- a) Agua
- b) Petróleo
- c) Madera
- d) Tierra

UNIDAD: “Repaso”

Objetivo(s) de la Clase:

- Repasar contenidos correspondientes al segundo semestre del año anterior.

LAS CULTURAS PRECOLOMBINAS

Antes de la llegada de Cristóbal Colón a nuestro continente, existía una gran cantidad de pueblos aborígenes, donde algunos se caracterizaron por ser nómadas que vivían de la caza, pesca y recolección, mientras otros pueblos fueron pueblos sedentarios que llegaron a practicar la agricultura y la ganadería. Los pueblos más desarrollados lograron conformarse como grandes civilizaciones que se ubicaron en la denominada **región mesoamericana** (aztecas y mayas), mientras otros se ubicaron en la **región andina** (incas)

LOS MAYAS

Se ubicaron en la Península de Yucatán y su máximo esplendor fue entre el 600 d.C. y el 900 d. C.

¿Cómo se organizaban?

Cada ciudad era independiente, es decir tenían sus propias leyes y gobierno, por eso se dice que eran ciudades – Estado. Entre ellas destacan Copán, Tikal, Palenque, Chichén Itza.

¿Cómo era su sociedad?

Se dividían en 4 grandes grupos sociales según la actividad y el origen de la persona. Estos eran la nobleza (Sacerdotes – guerreros, burócratas y comerciantes), los artesanos, los Campesinos y los esclavos (prisioneros de guerra).

¿De qué vivían?



Su economía se basaba en la agricultura a través del tierra de cultivos que se obtenían talando y quemando la selva. Allí cultivaban maíz (su principal producto), el poroto, el cacao, entre otros. Desarrollaron un activo comercio entre las ciudades, usando semillas del cacao como medio de cambio.

¿En que creían?

Eran politeístas ya que creían en varios dioses, quienes adoptaban las fuerzas de la naturaleza.

¿Cuáles fueron sus aportes?

En arquitectura, construyeron grandes pirámides y templos, en matemática usaron el concepto del número 0 (contaban de 20 en 20). Gracias a sus cálculos matemáticos pudieron construir ciudades y su calendario, Tenían conocimientos astronómicos sobre ciclos lunares, solares, y crearon un calendario exacto que tenía 365 días, entre otros.



LOS AZTECAS

Se ubicaron en el lago Texcoco, donde fundaron Tenochtitlán y su máximo esplendor fue desde el 1.300 d.C. aproximadamente hasta el 1.500 d.C. cuando llegan los españoles a la región.

¿Cómo se organizaban?

Se constituyeron en un imperio que domino parte importante de México, para ello sometieron a los pueblos vecinos por medio de la guerra o por medio del comercio crearon alianzas y su capital fue Tenochtitlán.

¿Cómo era su sociedad?

Se dividían en 5 grupos sociales según la actividad y origen de la persona. Estos eran la nobleza (realeza - sacerdotes - guerreros, burócratas), los comerciantes, los campesinos y artesanos, y en la base social se encontraban los esclavos (prisioneros de guerra).

¿De qué vivían?

Su economía se basaba en la agricultura a través de cultivos denominados chinampas (islas flotantes) en las que cultivaban maíz, el poroto, tomate, entre otros. Desarrollaron un tipo de comercio basado en el trueque. Como medio de cambio se empleaba además de cacao, piedras semipreciosas o los productos.

¿En que creían?

Eran politeístas ya que creían en varios dioses, quienes adoptaban las fuerzas de la naturaleza. Gran parte de su vida y cultura estaba determinada por sus creencias religiosas. Uno de los aspectos más característicos de la religiosidad azteca era la práctica de sacrificios humanos

¿Cuáles fueron sus aportes?

En arquitectura, fueron capaces de construir su ciudad sobre las aguas del lago Texcoco. Construyendo pirámides, plazas y templos.

En medicina poseían grandes conocimientos del medio ambiente y el cuerpo humano, conocían las propiedades curativas de las plantas, baños termales e incluso realizaban operaciones.



LOS INCAS

Originarios de Perú, alcanzaron a dominar territorios de países actuales como Ecuador, Perú, Bolivia, Argentina, Chile y su máximo esplendor fue desde el 1.300 d.C. aproximadamente hasta el 1.536 d.C. cuando llegan los españoles.

¿Cómo se organizaban?

Se constituyeron en un imperio que domino gran parte de la vertiente occidental del continente sudamericano, el que se dividía en cuatro suyos. Por la extensión crearon una red de caminos conocida como camino del inca.

¿Cómo era su sociedad?

Se dividían en 5 grupos sociales según la actividad y origen de la persona. Estos eran la realeza, la nobleza (nobleza de privilegio y nobleza de sangre), el pueblo en general o ayllu que se dividía en campesinos y artesanos (hatun runa), los mitimaes (colonos) los yanacunas (siervos del inca e imperio) y esclavos.

¿De qué vivían?

Su economía se basaba en la agricultura a través de cultivos que se desarrollaban en las laderas de los cerros, en las denominadas terrazas donde cultivaban maíz, la papa, el poroto, la quínoa, entre otros y la ganadería (llama y alpaca).

Cada miembro del ayllu debía tributar con trabajos y productos a al inca (mita), como a su comunidad (minca).

¿En que creían?

Eran politeístas ya que creían en varios dioses quienes adoptaban las fuerzas de la naturaleza, donde su máxima deidad era "Inti". Realizaban numerosas fiestas en conmemoración a los dioses que por lo general duraban algunos días.

¿Cuáles fueron sus aportes?

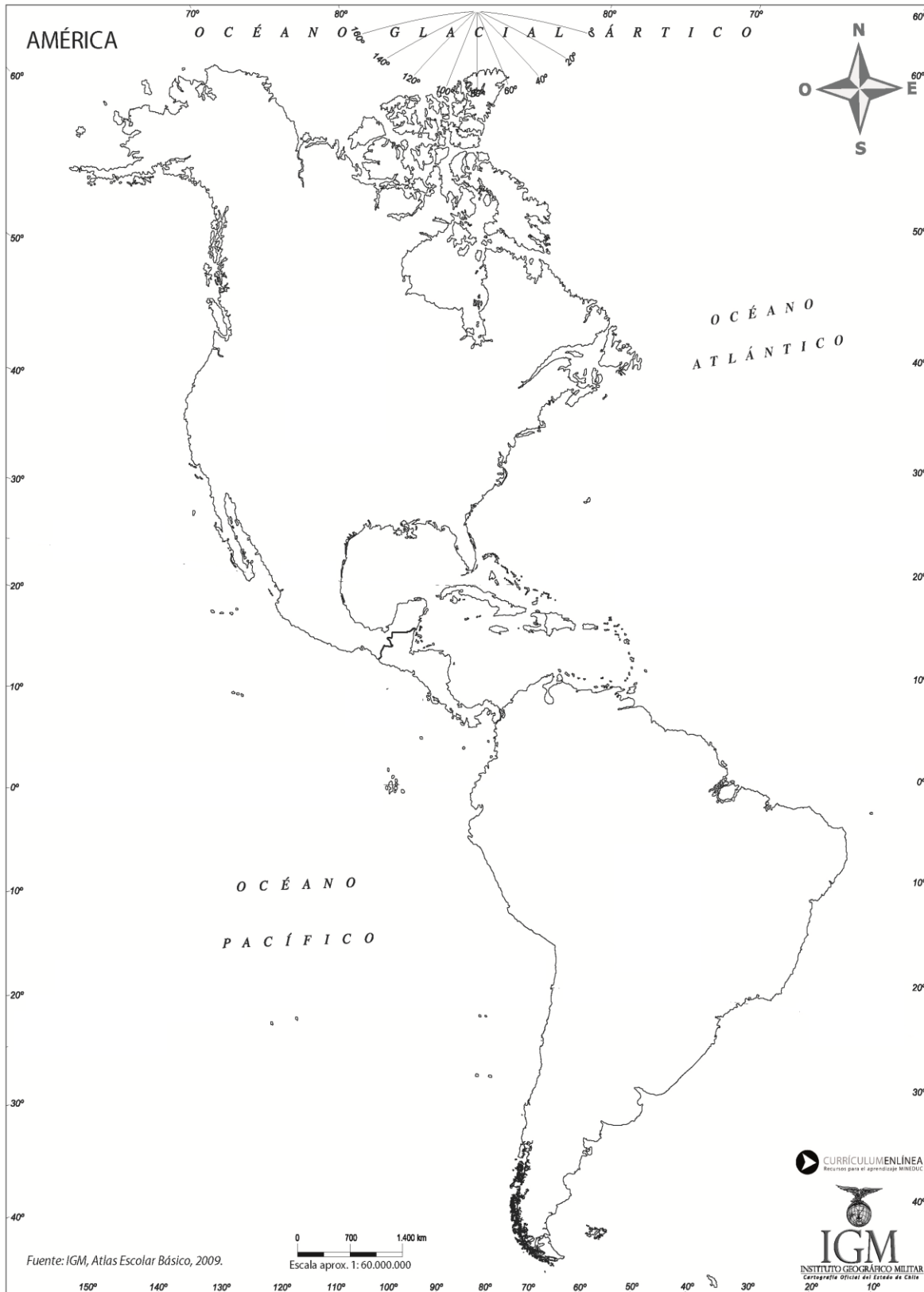
En arquitectura se caracterizaron por ser grandes arquitectos que con piedra elaboraron construcciones que aún permanecen (camino del inca, machu pichu, etc.)

Sistemas de cultivos que permiten evitar la erosión de los terrenos y abonar los suelos



Actividades

I.- Ubica en el mapa las áreas de influencia de las tres civilizaciones precolombinas.



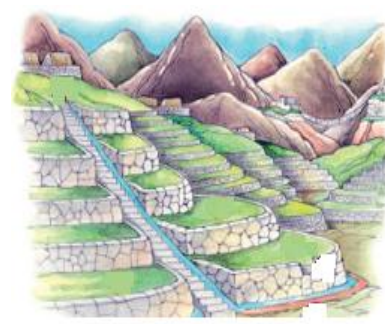

II.- Nombra los países que actualmente ocupan los territorios abarcados por cada civilización.

Civilización	País
Azteca	
Maya	
Inca	

III.- Construye una línea de tiempo, ubicando el espacio temporal en la cual de desarrollaron las tres civilizaciones americanas.

IV.- Observa las láminas y desarrolla las siguientes preguntas.

a) Identifica el sistema de cultivo con su respectivo pueblo que lo utilizó.



V.- Lee las siguientes preguntas y selecciona la alternativa correcta.

1.- La imagen representa la zona donde se desarrolló una de las principales civilizaciones precolombinas, esta fue:



- a) Maya
- b) Azteca
- c) Inca
- d) Olmeca


2.- ¿Cuál de los siguientes alimentos no fue utilizado por las culturas prehispánicas?



A



B

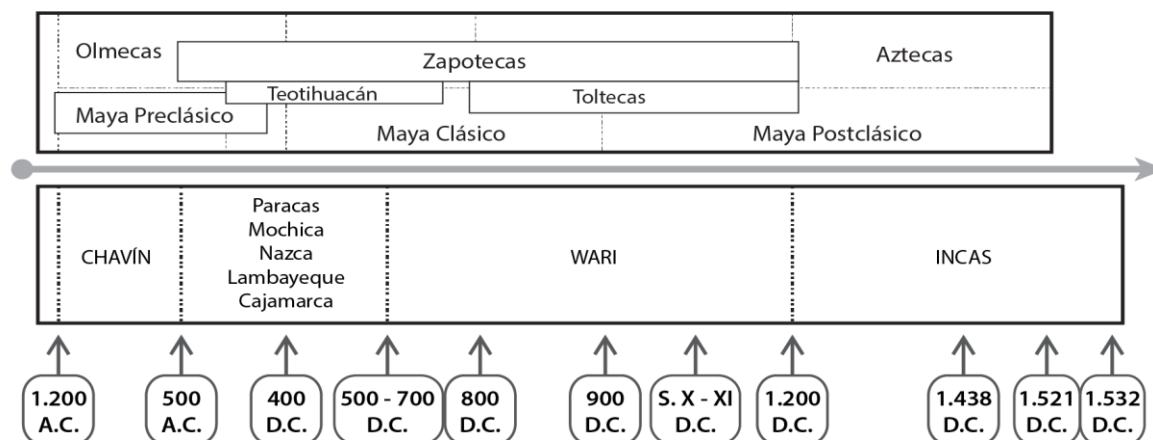


C



D

3.- De acuerdo a la presente imagen sobre podemos deducir que:



- I.- Uno de los primeros pueblos americanos son los Olmecas.
- II.- La cultura Zapoteca es antecesora de los Incas.
- III.- La última civilización americana que se desarrollo fue la Inca.

- a) I y II
- b) I y III
- c) II y III
- d) I, II y III

4.- La presente imagen, representa un tipo de cultivo conocido como:

- a) La chinampa
- b) La roza
- c) El cenote
- d) La mita



5.- Entre las características que presentaron las civilizaciones mayas en el ámbito religioso encontramos ciertas características como:

- a) Dioses con características humanas
- b) Una religión politeísta
- c) Una religión monoteísta
- d) Todas las anteriores

6.- La imagen representa a una de las ciudades americanas, la que se encontraba ubicada bajo dominio:

- a) Azteca
- b) Maya
- c) Inca
- d) Español



7.- En la actualidad existe un legado inmaterial y material que se encuentra representado en distintos ámbitos de nuestra vida, para el caso de los pueblos prehispánicos los podemos encontrar en:

- I El idioma
- II Las comidas
- III Los dioses

- a) I y II
- b) I y III
- c) II y III
- d) I, II y III

8.- ¿Cuál de las siguientes civilizaciones no se constituyó en imperio?

- a) Aztecas
- b) Incas
- c) Mayas
- d) Mapuches

9.- Entre las características que presentaron las civilizaciones americanas en el ámbito político y social, encontramos:

- I.- Una organización social altamente jerarquizada.
- II.- Una autoridad política, militar y religiosa.
- III.- Una estratificación que permitía la movilidad social.

- a) I y II
- b) I y III
- c) II y III
- d) I, II y III

10.- La característica de la religiosidad de las civilizaciones prehispánicas es que eran:

- a) Monoteístas
- b) Antropomorfos
- c) Politeístas
- d) Todas las anteriores