



MÓDULO DE AUTOAPRENDIZAJE

SEMANA 4 del 06 al 10 de Abril 2020

TÍTULO	El Homo Sapiens de África a América
ASIGNATURA /CURSO	Historia, Geografía y Ciencias Sociales/ 7º Año A
NOMBRE DEL PROFESORA	Daniela Carreño Salinas
OBJETIVO DE APRENDIZAJE DE LA UNIDAD 1 (TEXTUAL)	OA 1 Explicar el proceso de hominización, reconociendo las principales etapas de la evolución de la especie humana, la influencia de factores demográficos, su dispersión en el planeta y las distintas teorías del poblamiento americano.
Objetivos	Objetivos: Reconocer características de los homínidos y su aporte cultural Reconocer las principales teorías del poblamiento americano.
ACTIVIDAD(ES) Y RECURSOS PEDAGÓGICOS	Desarrollan guías de trabajo con apoyo de texto de estudio. Recuerda que todos los textos se encuentran disponibles digitalmente en: https://curriculumnacional.mineduc.cl/614/w3-propertyvalue-187786.html También te puedes apoyar ingresando a www.aprendoenlinea.mineduc.cl
EVALUACIÓN	Formativa
ESTE MÓDULO DEBE SER ENVIADO AL SIGUIENTE CORREO ELECTRÓNICO	Le saca una foto a sus respuestas y las envía al correo Sara.perez@colegio-jeanpiaget.cl Fecha de entrega 13 de abril , en caso de no poder enviarla, esta actividad se revisará al volver a clases. Muy importante no olvides anotar la fecha en cada actividad que realices.

Observa la ilustración, luego, responde:



b) ¿cuáles son los principales elementos que observas en la ilustración?

c) ¿cuáles se relacionan con aspectos biológicos y cuáles con aspectos culturales?
(menciona por lo menos 2 de cada una)

d) Según lo repasado en clases, ¿este grupo es nómada o sedentario?, ¿por qué?

Actividad 2:

Lee con atención el texto de la **página 14** y contesta:

Los primeros pasos de la evolución humana

¿En qué área geográfica se inició el proceso de hominización?, ¿cómo influyó el entorno en este proceso?

La teoría más aceptada para explicar la aparición y transformación de la especie humana es la del evolucionismo, formulada a mediados del siglo XIX (1800) por Charles Darwin. Siguiendo sus principios, y gracias al estudio de restos fósiles, se ha logrado demostrar que los grandes primates actuales (chimpancé, gorila y orangután) comparten un ancestro común con el ser humano.

Para comprender la evolución de nuestra especie, ha sido fundamental estudiar las transformaciones que ha experimentado la Tierra. Los estudios han logrado determinar que antes y durante la aparición de los antepasados más antiguos de los seres humanos el planeta sufrió importantes cambios climáticos y geológicos. Frente a estos cambios, numerosas especies se debieron adaptar, entre ellas, grupos de primates que, a diferencia de sus ancestros, ya no vivían de modo exclusivo sobre los árboles, sino que se desplazaban también de modo erguido. Dicha destreza permitió que especies posteriores adquirieran el bipedismo o capacidad de desplazarse sobre sus dos extremidades inferiores.

Glosario

Evolucionismo: teoría que plantea que todas las especies tienen un origen común y que el surgimiento de una nueva especie estaría dado por un conjunto de variaciones favorables que desarrollan algunos individuos de una especie para adaptarse con éxito a las condiciones y cambios del medio.

Restos fósiles: vestigios de seres vivos que fueron petrificados por acción de los minerales con los que estaban en contacto y que permitieron la conservación de su forma externa.

b) ¿Qué son los restos fósiles?, ¿qué se ha logrado demostrar con ellos según el texto?

c) ¿Qué significa Bipedismo del ser Humano?

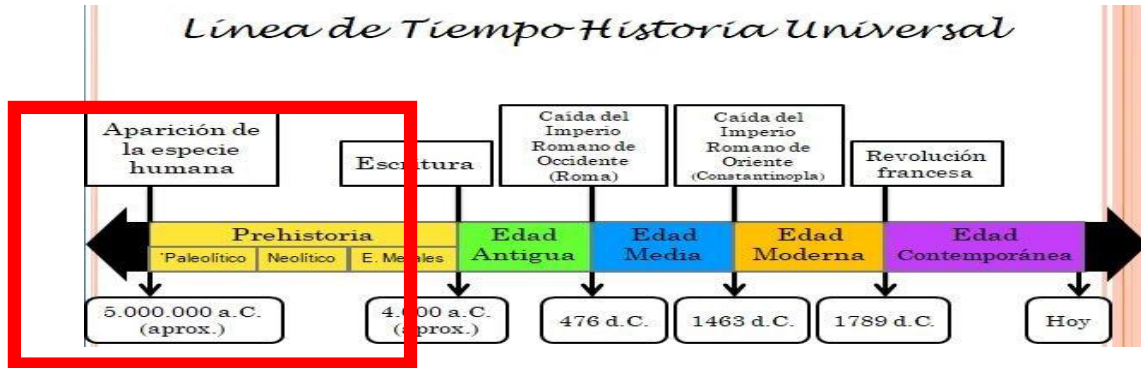
Objetivo: Reconocer características de los homínidos y su aporte cultural

Actividad: Lee y observa con atención la información de las páginas 15 y 16 de tu texto y completa las fichas de los homínidos en tu cuaderno

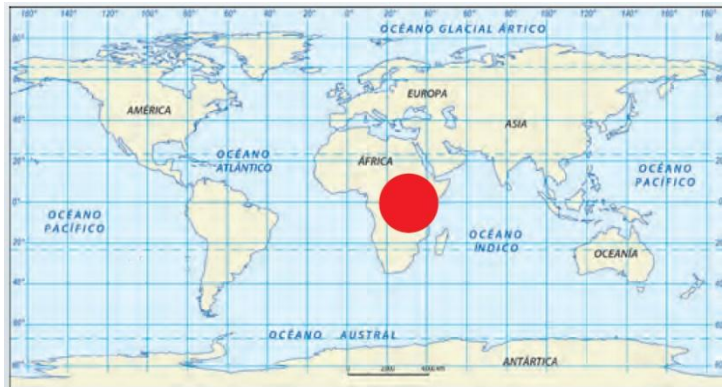
- **Para profundizar en el tema de esta clase, observa el siguiente video:**

<https://www.youtube.com/watch?v=sQBmDHVTNDU&t=116s>

Antes de comenzar recuerda donde nos situamos en el **tiempo**: (Edad Moderna)



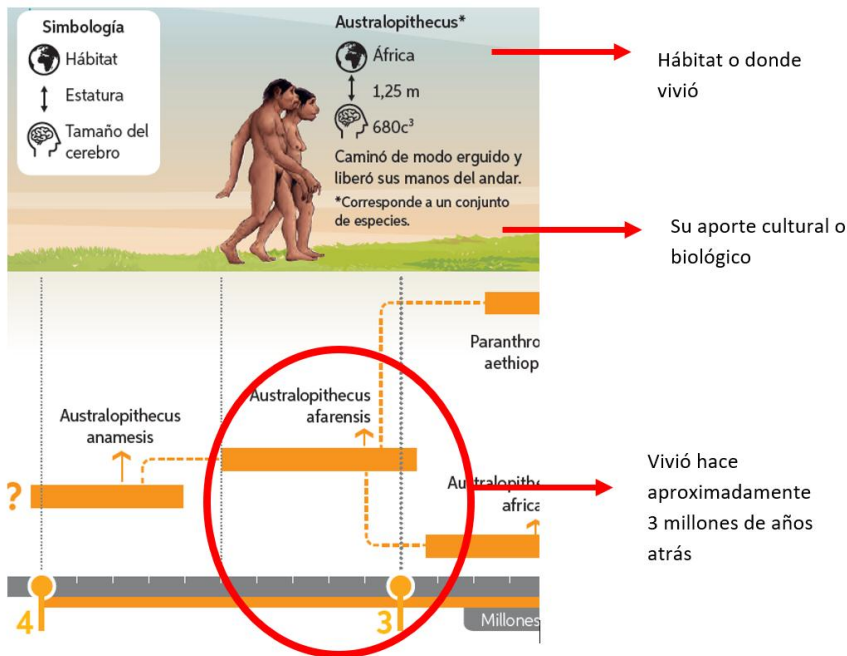
Y en el **espacio**: (África)




“La gran familia humana”

Lee con atención la información de las **paginas 15 y 16** de tu texto de estudios de historia, allí aparecen una serie de homínidos (australopithecus, homo habilis, homo erectus, homo neanderthal y homo sapiens).

Aprender de cada uno de nuestros “familiares lejanos” nos sirve para conocernos a nosotros mismos. Cada uno de ellos realizó algún tipo de aporte cultural y biológico.



ACTIVIDAD: Observa con atención cada uno de estos homínidos (australopithecus, homo habilis, homo erectus, homo neanderthal y homo sapiens) y **completa en tu cuaderno** la siguiente ficha para cada uno de ellos, tal y como en el ejemplo:

Nombre:	Australopithecus
Fecha aproximada en que vivió:	3 millones de años atrás
Ubicación o hábitat:	África
¿Sedentario o nómada?	Nómada
Aporte cultural:	Caminar en dos pies (bipedismo)
Dibujo de su aporte cultural en la actualidad: (como vemos o utilizamos ese aporte en la actualidad)	

Nombre:	
Fecha aproximada en que vivió:	
Ubicación o hábitat:	
¿Sedentario o nómada?	
Aporte cultural:	
Dibujo de su aporte cultural en la actualidad: (como vemos o utilizamos ese aporte en la actualidad)	

ACTIVIDAD:

a) Ubica en el siguiente mapa mudo, algunos de los principales hitos geográficos del poblamiento americano. Te puedes apoyar en tu texto estudio **páginas 18 y 19.**

Mapa mudo mundi “principales hitos geográficos poblamiento americano”



Australia

América

Asia

Estrecho de Bering

África

Antártica

Alaska

Europa

Arrastra los nombres al mapa donde corresponda

b) Podemos afirmar que, en cuanto al poblamiento humano, se dan procesos **autóctonos** o **alóctonos**. **Busca en internet o un diccionario** la definición de estos conceptos y escríbelos:

- Autóctono:
- Alóctono:

a) En América, ¿se da un proceso de origen de la población **autóctona** o **alóctona**?, ¿por qué?

c) Lee con atención tu texto de estudios, **página 19** y completa el siguiente cuadro comparativo:

Video de apoyo a la actividad “Poblamiento Americano (El origen del Hombre Americano)”

Disponible en el siguiente link: <https://www.youtube.com/watch?v=hgpHBGdqfc>

	RUTA DE BERING	Ruta transpacífica	Ruta Oceanía - Antártica
¿Quién la postula?	Alex Hrdlicka		
Ruta (lugares por donde pasan homínidos para llegar a América)	Desde Asia atraviesan por un puente terrestre que unió Siberia (Asia) y Alaska (América), por el norte del continente americano.		
Características geográficas de la ruta	Época de glaciación, por lo tanto, la condición geográfica que más destacó fue un clima extremadamente frío.		
Origen del poblamiento americano	Únicamente desde Asia		
Dificultades que presenta la teoría	Sólo acepta el poblamiento desde Asia, sin considerar otras alternativas posibles.		

¡¡¡¡ FELICITACIONES LO LOGRASTE!!!!!!